



2

Le rectangle et le losange ont chacun 2 axes de symétrie.


- **Trace** ces axes en pointillés bleus.
- **Vérifie** en décalquant les figures puis en pliant le calque le long des axes de symétrie.



3

Le carré a 4 axes de symétrie.

- À toi de les découvrir, en t'aidant d'un calque si nécessaire.
- **Trace-les** en pointillés bleus.



## JE CHERCHE.....

- **Es-tu d'accord** avec ce que dit Julia ?  
« Chaque axe de symétrie d'un cercle le découpe en 2 demi-cercles. »

Vrai  Faux

- « Le cercle possède seulement 4 axes de symétrie. »

Vrai  Faux

- **Trace** des axes de symétrie sur ce cercle dont on a marqué le centre O.

**Peux-tu en tracer plus de 4 ? .....**

