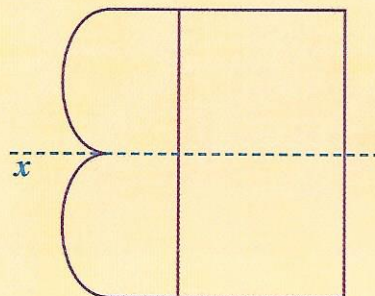
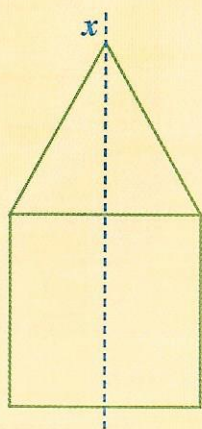
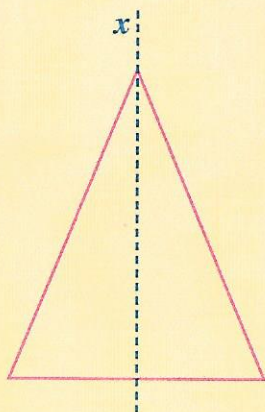


Axes de symétrie d'une figure

- Quand on décalque chacune de ces figures et qu'on plie le calque en suivant la droite x , les deux moitiés de la figure se **superposent exactement**.
- La droite x est l'**axe de symétrie** de chacune des figures.



JE M'EXERCE

1

- **Trace** en pointillés bleus l'axe de symétrie de chacune de ces figures.
- **Vérifie** en décalquant et en pliant les figures.

