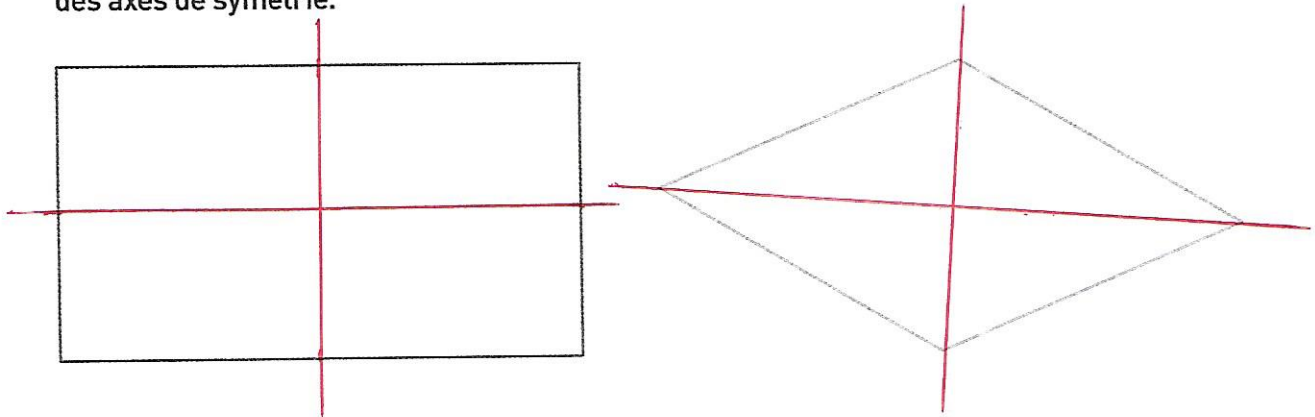


2

Le rectangle et le losange ont chacun 2 axes de symétrie.


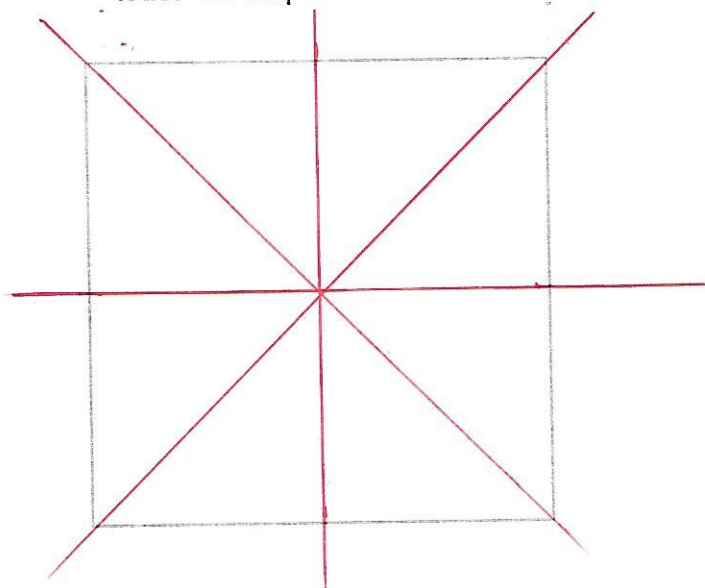
- Trace ces axes en pointillés bleus.
- Vérifie en décalquant les figures puis en pliant le calque le long des axes de symétrie.



3

Le carré a 4 axes de symétrie.

- À toi de les découvrir, en t'aidant d'un calque si nécessaire.
- Trace-les en pointillés bleus.



### JE CHERCHE

- Es-tu d'accord avec ce que dit Julia ?

« Chaque axe de symétrie d'un cercle le découpe en 2 demi-cercles. »

Vrai  Faux

« Le cercle possède seulement 4 axes de symétrie. »

Vrai  Faux

- Trace des axes de symétrie sur ce cercle dont on a marqué le centre O.

Peux-tu en tracer plus de 4 ? ...*Oui*.....

