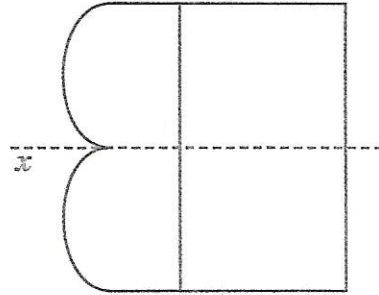
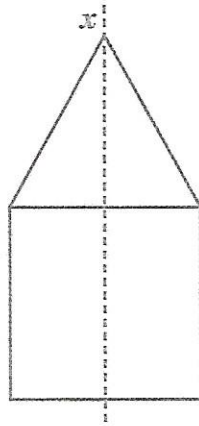



# Axes de symétrie d'une figure

- Quand on décalque chacune de ces figures et qu'on plie le calque en suivant la droite  $x$ , les deux moitiés de la figure se superposent exactement.
- La droite  $x$  est l'axe de symétrie de chacune des figures.



## JE M'EXERCE

1

- Trace en pointillés bleus l'axe de symétrie de chacune de ces figures.
- Vérifie en décalquant et en pliant les figures.

