

Prénom : Date :

1 Observe cette photographie de la Terre et réponds aux questions.

• À ton avis, d'où a été prise cette photo ?


de l'espace

• Quelle forme la Terre a-t-elle ?


Elle a la forme d'une sphère.

• Colorie en rouge, sur les représentations de la Terre de l'exercice 2, le continent visible sur cette photo.

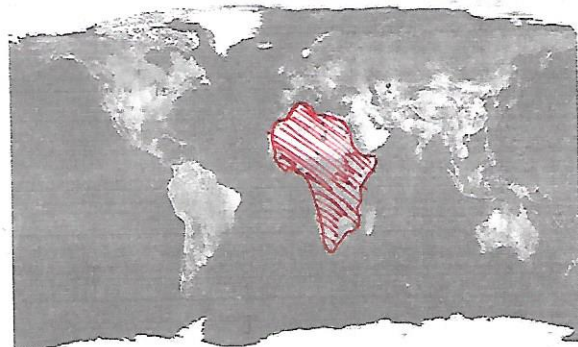
(Il s'agit de l'Afrique)



2 Écris sous chacune des représentations de la Terre le nom qui convient : globe terrestre – planisphère.



globe terrestre



planisphère

3 Lis ces phrases et coche vrai ou faux.

La Terre et le globe terrestre n'ont pas la même forme.

Vrai Faux

Le globe terrestre permet d'observer toute la Terre d'un seul coup d'œil.

Vrai Faux

Le planisphère est une représentation à plat de la Terre.

Vrai Faux

Le planisphère permet d'observer toute la Terre d'un seul coup d'œil.

Vrai Faux