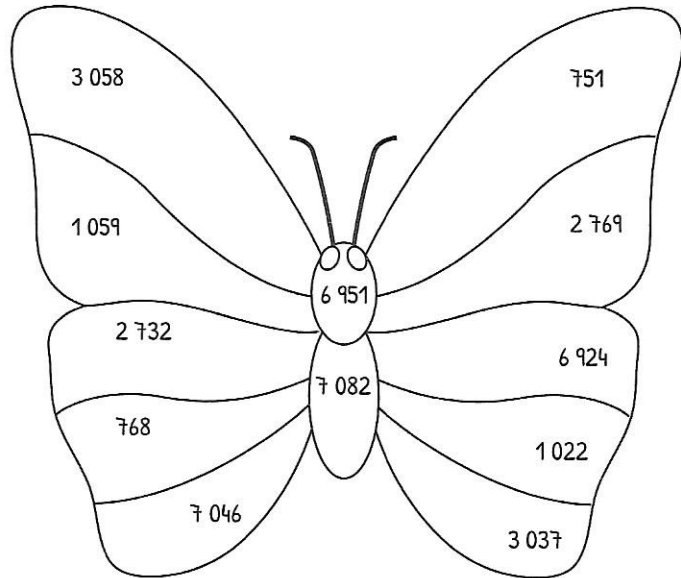
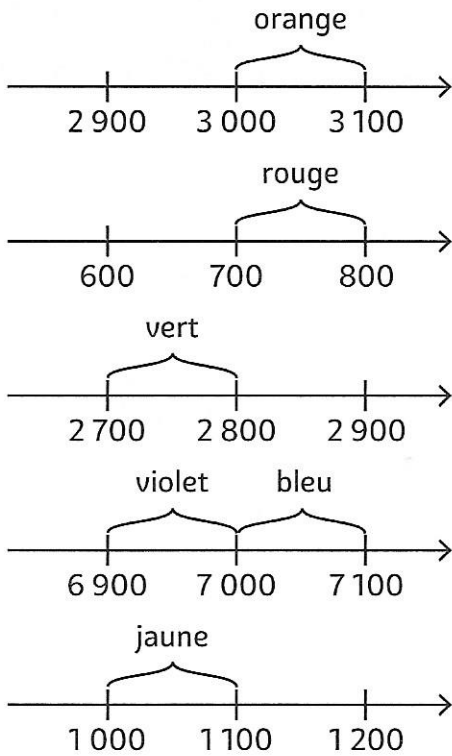


⑤ Colorie selon le code.

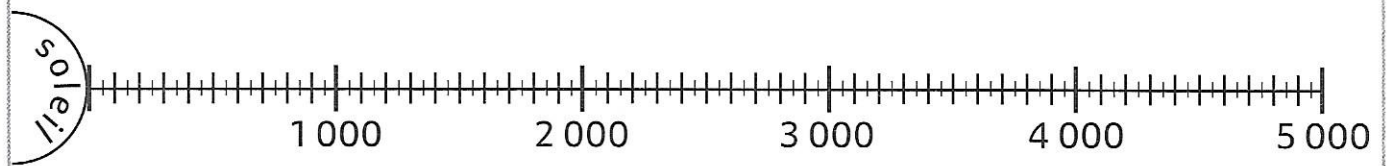


LES MATHS DANS LA VIE



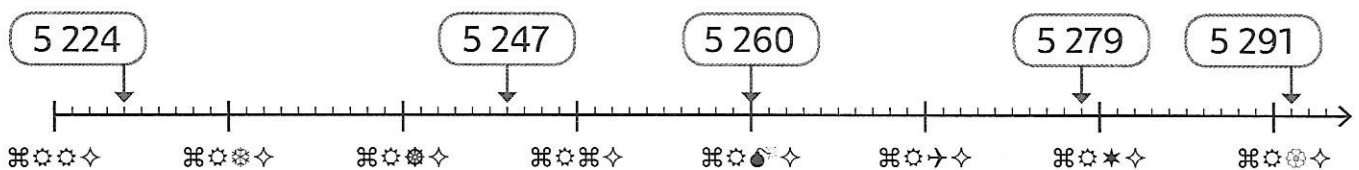
⑥ Place au bon endroit les numéros des planètes du système solaire sur cette représentation graduée.

Planètes	①	②	③	④	⑤	⑥	⑦	⑧
	Mercure	Vénus	Terre	Mars	Jupiter	Saturne	Uranus	Neptune
Distance au Soleil (millions de km)	57	108	149	227	778	1 421	2 876	4 498



DÉFI

⑦ Observe cette droite graduée codée et déchiffre la grille de codage.



Grille de décodage

☼ : ..... ☼☼ : ..... ☼☼☼ : ..... ☼☼☼☼ : ..... ☼☼☼☼☼ : ..... ☼☼☼☼☼☼ : ..... ☼☼☼☼☼☼☼ : ..... ☼☼☼☼☼☼☼☼ : ..... ☼☼☼☼☼☼☼☼☼ : ..... ☼☼☼☼☼☼☼☼☼☼ : .....