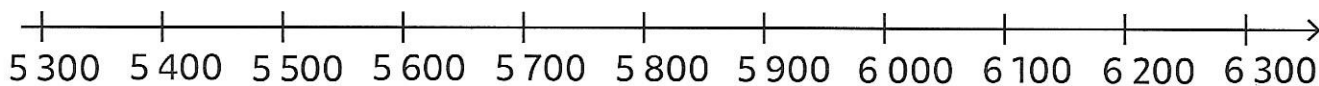
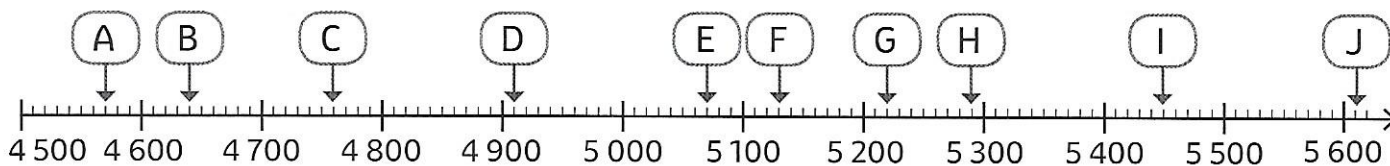


① Place les nombres suivants sur la droite graduée. Attention aux intrus !

- 6 259 3 247 5 492 5 709 7 438 5 621 5 356 5 934

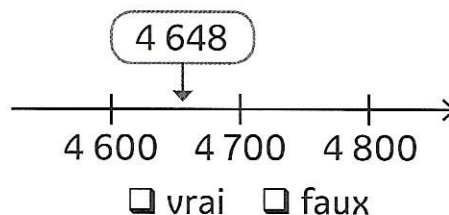
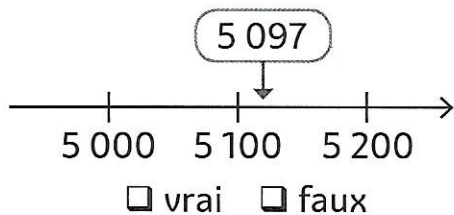
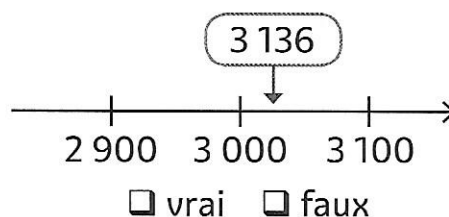
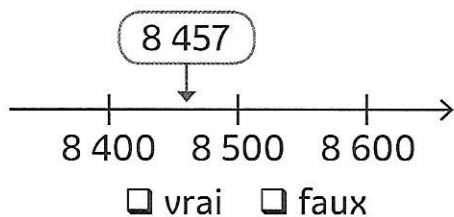


② Écris les nombres représentés par les lettres sur la droite graduée.

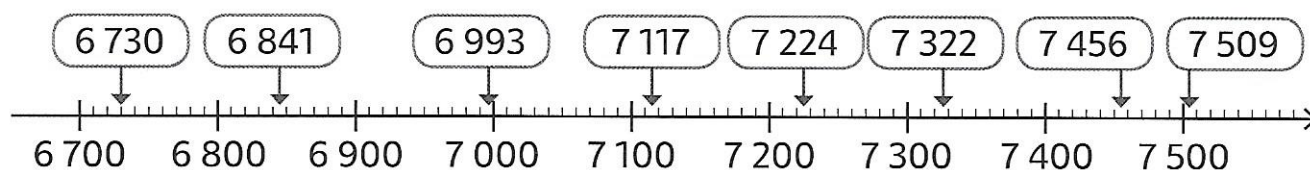


A : C : E : G : I :
B : D : F : H : J :

③ Les nombres sont-ils bien placés sur la droite graduée ? Coche vrai ou faux.



④ Observe les nombres placés sur cette droite graduée et indique de quelle centaine chacun est le plus proche.



6 841 est proche de 7 322 est proche de
6 993 est proche de 7 456 est proche de
7 117 est proche de 7 509 est proche de
6 730 est proche de 7 224 est proche de