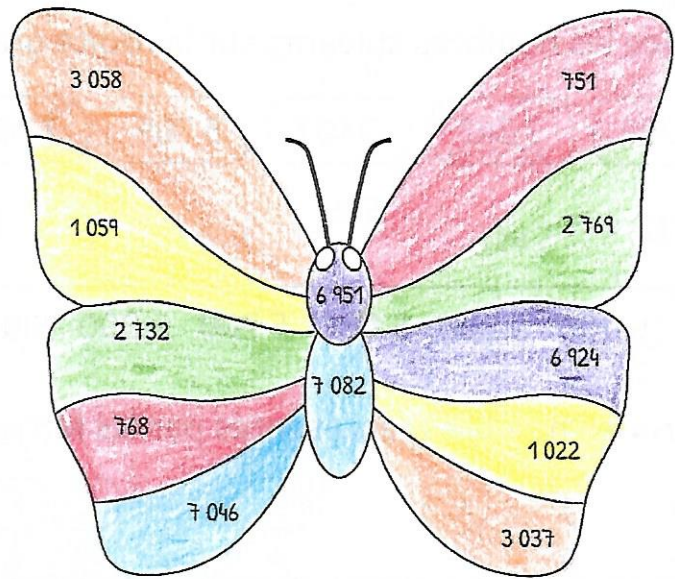
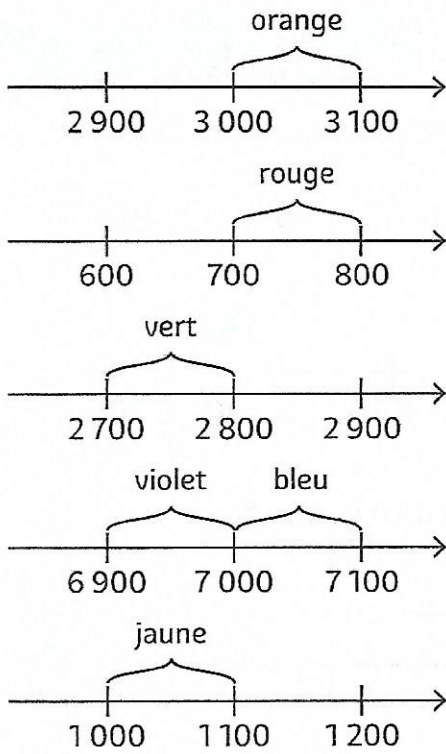


⑤ Colorie selon le code.

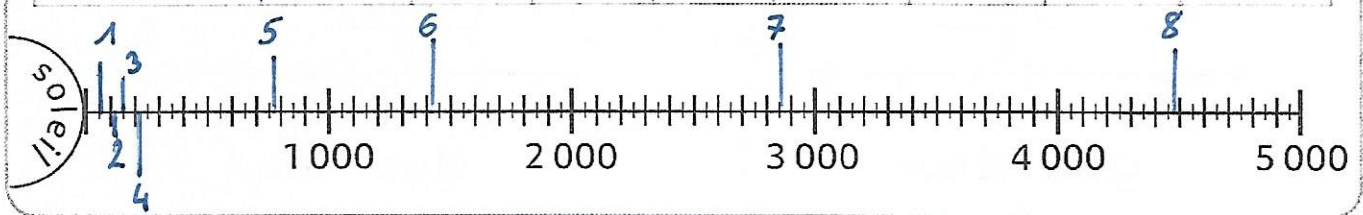


LES MATHS DANS LA VIE



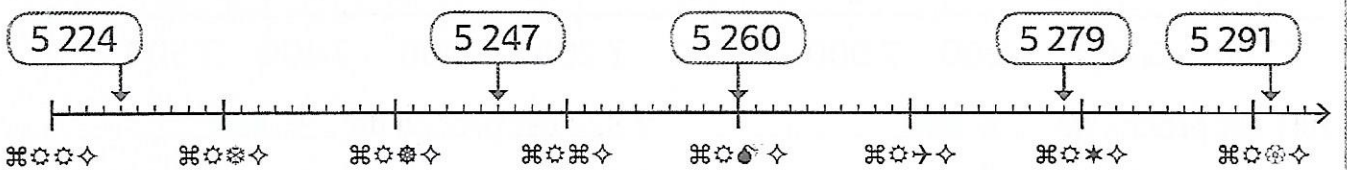
⑥ Place au bon endroit les numéros des planètes du système solaire sur cette représentation graduée.

Planètes	①	②	③	④	⑤	⑥	⑦	⑧
	Mercure	Vénus	Terre	Mars	Jupiter	Saturne	Uranus	Neptune
Distance au Soleil (millions de km)	57	108	149	227	778	1 421	2 876	4 498



DÉFI

⑦ Observe cette droite graduée codée et déchiffre la grille de codage.



Grille de décodage

⊛ : ... 3 ...   ⊙ : ... 6 ...   ☆ : ... 8 ...   ⊗ : ... 9 ...   ⌘ : ... 5 ...   ✧ : ... 0 ...   ⚙ : ... 2 ...   ➔ : ... 7 ...   ⊛ : ... 4 ...