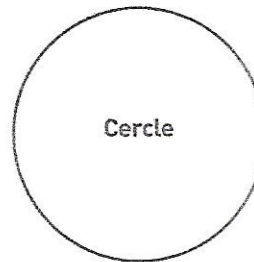
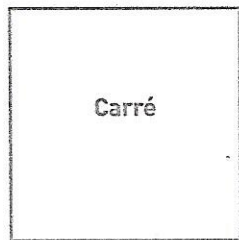
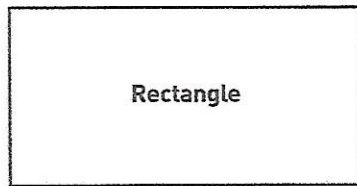
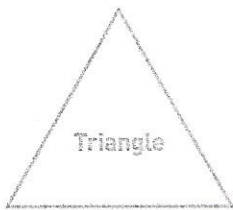


Reconnaître et décrire des figures planes

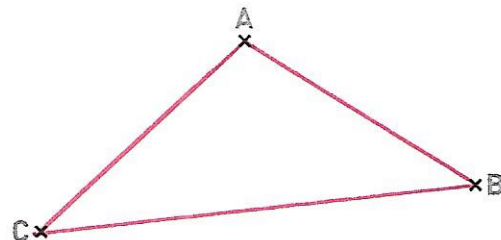


JE M'EXERCE

1

Joins les points A, B et C à la règle.

Tu obtiens un triangle
qui a 3 côtés, 3 sommets et 3 angles.



2

Complète la description de chacune de ces deux figures.


• Figure ①

C'est un carré

Ses 4 côtés sont égaux

Ses 4 angles sont droits

Elle a 4 sommets.



• Figure ②

C'est un triangle rectangle

car 2 de ses côtés forment un angle droit

