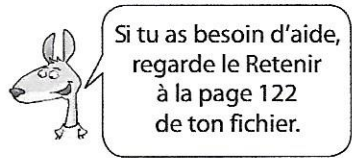
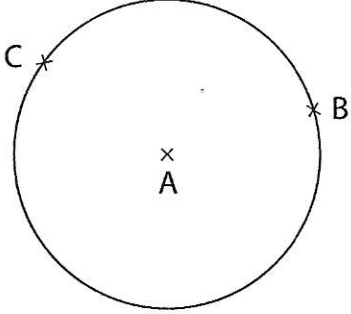


Le cercle



A1 Observe ce cercle. _____

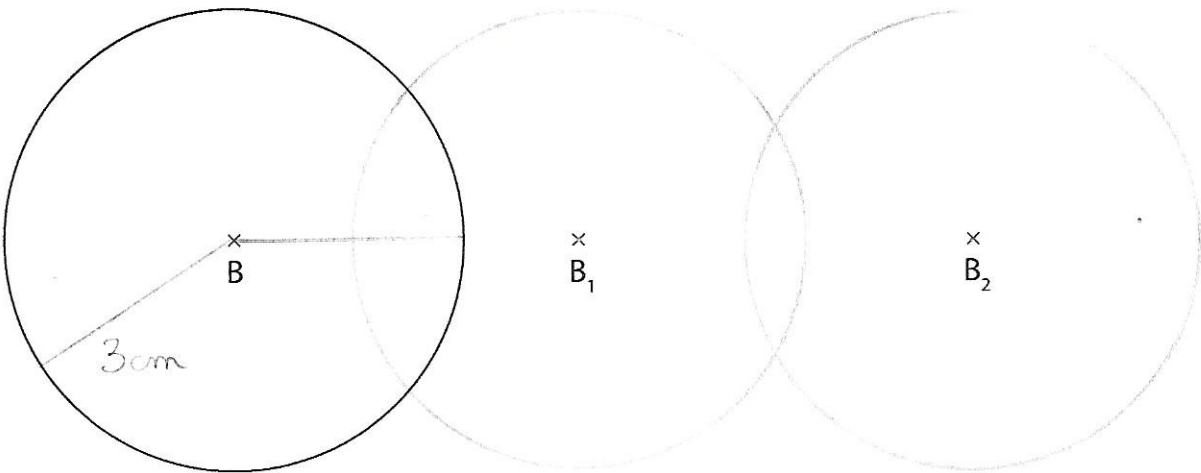


• **Nomme** le centre du cercle : **A**

• **Nomme** 2 rayons de ce cercle : **AC AB**

• Quelle est la mesure du rayon ?
..... **2cm**

A2 Reproduis le cercle de centre B à partir du centre B₁, puis à partir du centre B₂. _____



A3 Trace un cercle de 4 cm de rayon et de centre A. _____

