

**GALCULER AVEC LA MONNAIE**

**5** Calcule.

$10\text{€} + 3\text{€}40 = 13\text{€}40$

$26\text{€}50 - 4\text{€} = 22\text{€}50$

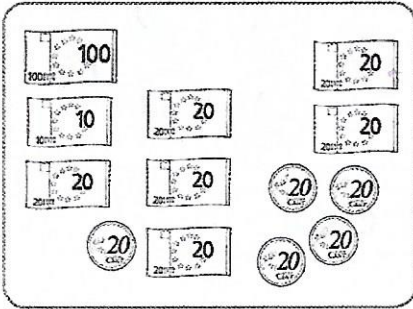
$15\text{€} + 2\text{€} + 6\text{€}80 = 23\text{€}80$

$18\text{€}70 - 7\text{€}30 = 11\text{€}40$

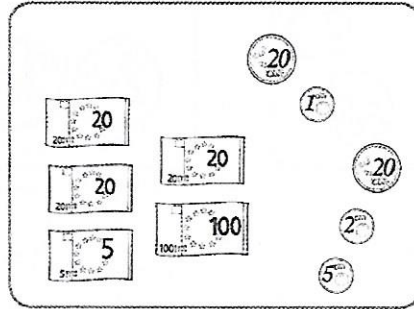
$7\text{€}30 + 4\text{€} + 5\text{€}60 = 16\text{€}90$

$34\text{€}60 - 14\text{€}10 = 20\text{€}50$

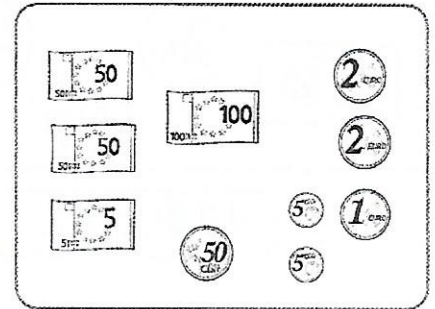
**6** Compte l'argent et numérote les sommes dans l'ordre croissant.



$231\text{€}$  /  $\rightarrow$  n° 3





$165\text{€}48$  /  $\rightarrow$  n° 1



$210\text{€}60$  /  $\rightarrow$  n° 2

**LES MATHS DANS LA VIE**

**7** Alex veut acheter ses deux jouets préférés avec ses économies. Voici le contenu de son porte-monnaie.



115€30

Calcule le prix de ces deux jouets :  $95\text{€} + 28\text{€}50 = 123\text{€}50$

Combien Alex doit encore économiser pour acheter ces deux articles ?

$123\text{€}50 - 115\text{€}30 = 8\text{€}20$  Il doit économiser encore 8€20

**DÉFI**

**8** Moana, Noa et Thaïs se partagent équitablement ce trésor. Entoure en rose la part de Moana, en bleu celle de Noa et en vert celle de Thaïs.

