


④ Indique la capacité du liquide présent dans chaque récipient.




Entre 6  
et 7 litres




12 litres

⑤ Colorie la capacité du liquide présent dans chaque récipient.



25 litres



Entre 700  
et 800 litres

## LES MATHS DANS LA VIE

⑥ M. Rouletabosse est parti en vacances. Au départ, il a fait le plein d'essence de sa voiture. Son réservoir contient 40 litres d'essence. Voilà ce qu'indique sa jauge d'essence à l'arrivée. Combien reste-il d'essence à M. Rouletabosse ?



La moitié de 40 est 20  
Il lui reste donc 20 litres d'essence.

## DEFI

⑦ Mathilde, Clément et Noura partent en camping. Qui a pris le plus d'eau ?

*C'est Clément qui a pris le plus d'eau.*



Mathilde



23 L



Clément



24 L



Noura



21 L