

# JE ME TESTE ①

Prénom .....

Date .....

## CONNAITRE LES MESURES DE CONTENANCES


### ESTIMER DES CONTENANCES

1 Entoure chaque dessin selon le code couleur suivant :

bleu objet contenant plus d'un litre

rouge objet contenant 1 litre


vert objet contenant moins d'un litre



### MESURER DES CONTENANCES


2 Entoure la contenance du liquide présent dans chaque récipient.

Litres




7 L ou 8 L

Litres




6 L ou 8 L

Litres



5 litres

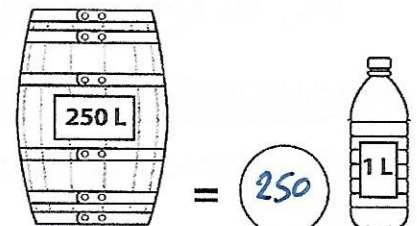
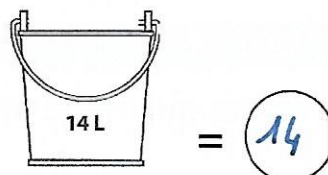
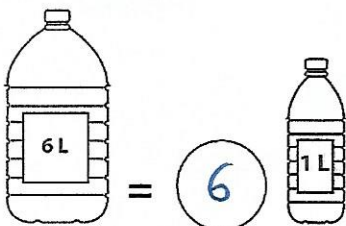
Litres



80 litres

3 Colorie la contenance du liquide présent dans chaque récipient.

4 Écris le nombre de bouteilles de 1 L nécessaires pour remplir ces récipients.



### COMPARER DES CONTENANCES

5 Numérote ces récipients selon leur contenance du plus petit (1) au plus grand (6).



4



6



2



5



1



3