

# JE ME TESTE ①

Prénom .....

Date .....

## CONNAITRE LES MESURES DE CONTENANCES

### ESTIMER DES CONTENANCES

1 Entoure chaque dessin selon le code couleur suivant :

bleu

objet contenant plus d'un litre

rouge

objet contenant 1 litre

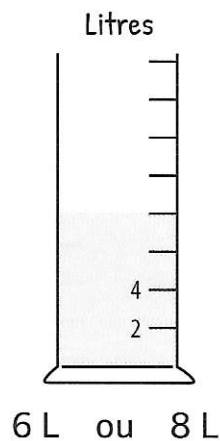

vert

objet contenant moins d'un litre


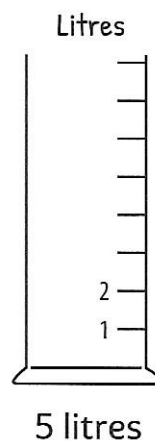


### MESURER DES CONTENANCES

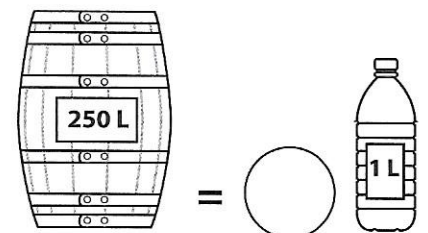
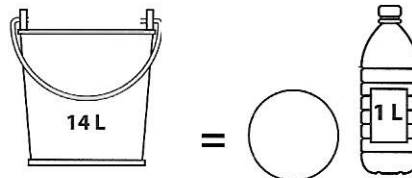
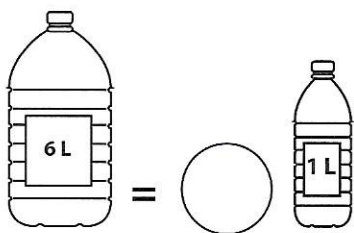
2 Entoure la contenance du liquide présent dans chaque récipient.



3 Colorie la contenance du liquide présent dans chaque récipient.



4 Écris le nombre de bouteilles de 1 L nécessaires pour remplir ces récipients.



### COMPARER DES CONTENANCES

5 Numérote ces récipients selon leur contenance du plus petit (1) au plus grand (6).

