


Les mots pour comparer

Parcours A

A1 Complète les phrases suivantes. _____



La maison est



La tour Eiffel est

A2 Écris la comparaison sous forme mathématique.

• 90 km est plus grand que 75 km.

.....

• 560 mm est plus petit que 600 mm.

.....

A3 Écris la phrase qui correspond. _____

• $324 = 300 + 20 + 4$.

324 est

• $113 \neq 100 + 30$.

113 est

Parcours B

B1 Écris la comparaison sous forme mathématique. _____

• 100 km est plus grand que 67 km.

• 298 m est plus petit que 400 m.

• 5 000 cm est plus grand que 48 m.

B2 Écris la phrase qui correspond. _____


• $584 = 500 + 80 + 4$

584 est

• $979 \neq 900 + 60 + 9$


979 est

B3 Complète les phrases suivantes. _____




Le nombre d'escargots est

au nombre de chats.



..... au nombre de chats.



Le nombre de chiens est