

53

Parcours A

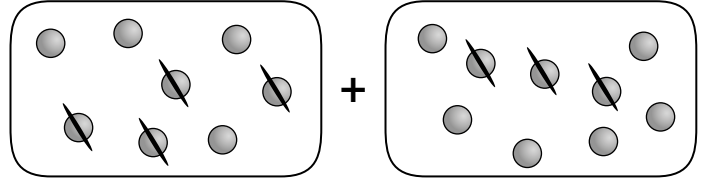
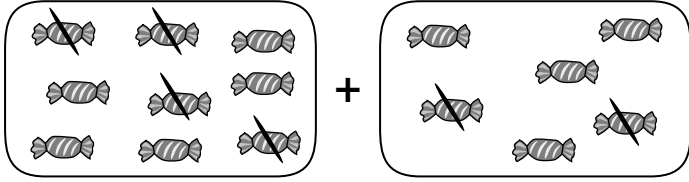
FICHER PAGES 100 ET 101

**Stratégies de calcul :
calculs avec des parenthèses**



Si tu as besoin d'aide, regarde le Retenir à la page 106 de ton fichier.

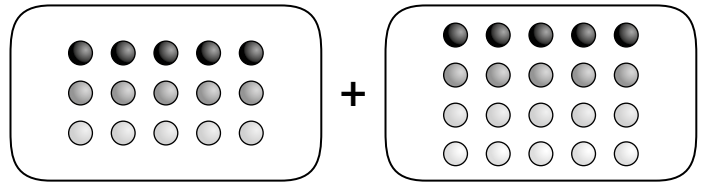
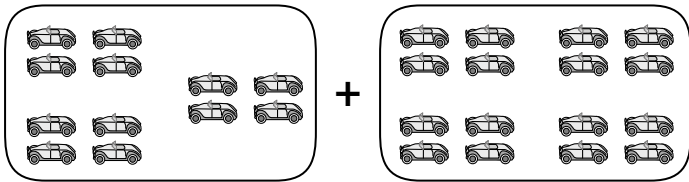
A1 Écris les opérations correspondantes, puis effectue les calculs. _____



(..... -) + (..... -)
= + =

(..... -) + (..... -)
=

A2 Écris les opérations correspondantes, puis effectue les calculs. _____



(..... ×) + (..... ×)
= + =

(..... ×) + (..... ×)
=

A3 Calcule. _____

- (7 - 3) + (6 - 4) =
- (15 - 6) + (18 - 9) =
- (14 - 7) + (9 - 5) =
- (20 - 8) + (30 - 20) =
- (30 - 15) + (19 - 9) =
- (27 - 19) + (15 - 7) =

A4 Calcule. _____

- (2 × 8) + (2 × 6) =
- (4 × 3) + (2 × 9) =
- (3 × 3) + (4 × 5) =
- (10 × 7) + 7 =
- (10 × 8) + 9 =
- (10 × 4) + (10 × 6) =

A5 Résous les problèmes en utilisant un calcul avec des parenthèses. _____

• Violette a acheté 3 paquets de stylos bleus contenant chacun 6 stylos et 5 paquets de stylos verts contenant chacun 8 stylos. Combien de stylos Violette a-t-elle en tout ?



• Pour l'anniversaire de mamie, Lou a acheté 5 paquets de 4 bougies roses chacun et 7 paquets de 5 bougies bleues chacun. Elle met toutes les bougies sur le gâteau. Quel âge vient d'avoir la mamie de Lou ?

