


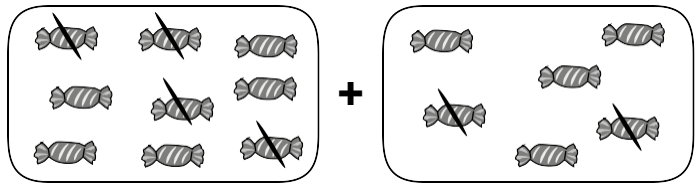
53

Parcours A FICHER PAGES 100 ET 101

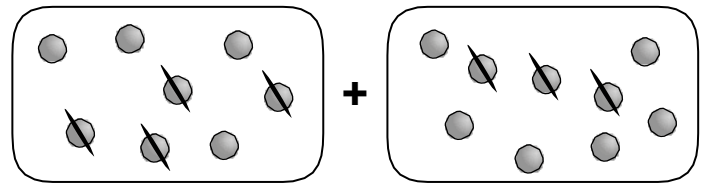
**Stratégies de calcul :
calculs avec des parenthèses**



A1 Écris les opérations correspondantes, puis effectue les calculs. _____

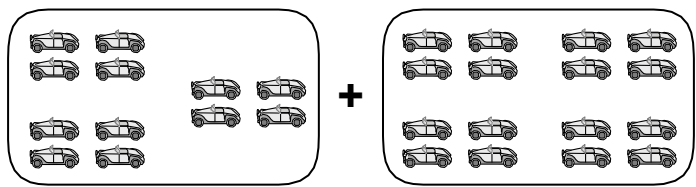


$(9 - 4) + (6 - 2)$
= $5 + 4 = 9$

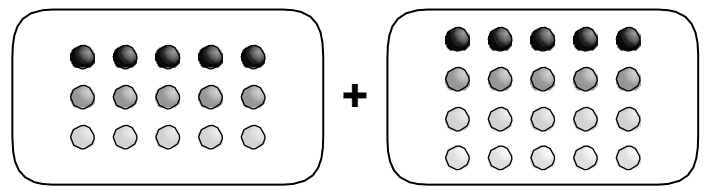


$(8 - 4) + (9 - 3)$
= $4 + 6 = 10$

A2 Écris les opérations correspondantes, puis effectue les calculs. _____



$(3 \times 4) + (4 \times 4)$
= $12 + 16 = 28$



$(3 \times 5) + (4 \times 5)$
= $15 + 20 = 35$

A3 Calcule. _____

- $(7 - 3) + (6 - 4) = 4 + 2 = 6$
- $(20 - 8) + (30 - 20) = 12 + 10 = 22$
- $(15 - 6) + (18 - 9) = 9 + 9 = 18$
- $(30 - 15) + (19 - 9) = 15 + 10 = 35$
- $(14 - 7) + (9 - 5) = 7 + 4 = 11$
- $(27 - 19) + (15 - 7) = 8 + 8 = 16$

A4 Calcule. _____

- $(2 \times 8) + (2 \times 6) = 16 + 12 = 28$
- $(10 \times 7) + 7 = 70 + 7 = 77$
- $(4 \times 3) + (2 \times 9) = 12 + 18 = 30$
- $(10 \times 8) + 9 = 80 + 9 = 89$
- $(3 \times 3) + (4 \times 5) = 9 + 20 = 29$
- $(10 \times 4) + (10 \times 6) = 40 + 60 = 100$

A5 Résous les problèmes en utilisant un calcul avec des parenthèses. _____

• Violette a acheté 3 paquets de stylos bleus contenant chacun 6 stylos et 5 paquets de stylos verts contenant chacun 8 stylos. Combien de stylos Violette a-t-elle en tout ?

$(3 \times 6) + (5 \times 8) = 18 + 40 = 58$

.. Violette a 58 stylos en tout.

• Pour l'anniversaire de mamie, Lou a acheté 5 paquets de 4 bougies roses chacun et 7 paquets de 5 bougies bleues chacun. Elle met toutes les bougies sur le gâteau. Quel âge vient d'avoir la mamie de Lou ?

$(5 \times 4) + (7 \times 5) = 20 + 35 = 55$

.. La mamie de Lou a 55 ans.