


Le carré




Si tu as besoin d'aide, regarde le Retenir à la page 88 de ton fichier.

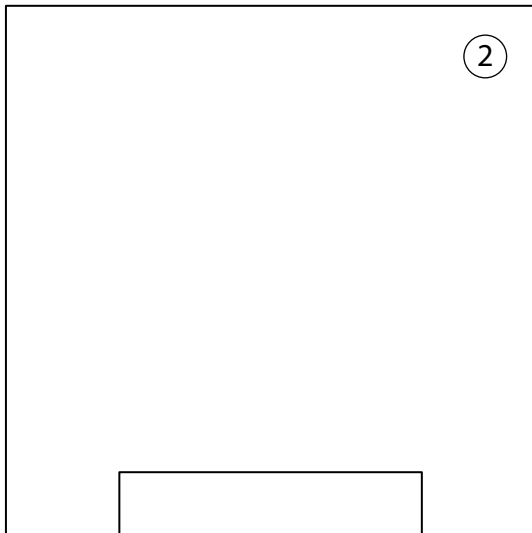
B1 Trace un carré de 6 cm de côté et un carré de 5 cm et 5 mm de côté. _____



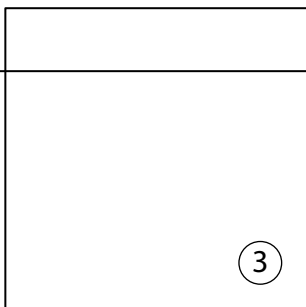
B2 Écris la « carte d'identité » de chaque carré utilisé pour dessiner ce robot. _____



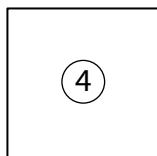
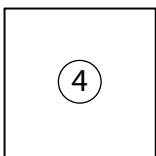
Carré 1 :
.....
.....
.....
.....



Carré 2 :
.....
.....
.....
.....



Carré 3 :
.....
.....
.....



Carré 4 :
.....
.....